

제 4 교시

직업탐구 영역(성공적인 직업생활)

성명

수험 번호

제 [] 선택

1. 다음 글에 나타난 A, B 씨의 직업 가치관에 대한 설명으로 적절한 것만을 <보기>에서 고른 것은?

이달의 인물 “서로 다른 길, 같은 열정”

A 씨는 다양한 기계 설계 프로젝트에서 우수한 성과를 내면서 자신의 설계 역량이 향상되는 것에 큰 보람을 느낀다. 그는 “매 프로젝트마다 나만의 목표를 초과 달성할 때가 가장 짜릿합니다.”라고 말하였다.

B 씨는 소외 지역 청소년을 위한 코딩 학원을 운영하고 있다. 그는 “학창 시절 장학금 지원을 많이 받았기에 조금이라도 사회에 기여하는 일을 하고 싶었어요.”라며, 학생들이 자신만의 앱을 구현하며 즐거워하는 모습에 큰 보람을 느낀다고 하였다.

<보 기>

- ㄱ. A 씨는 직업의 가치 중 ‘자기 개발’을 중요시한다.
 ㄴ. B 씨는 직업을 통해 타인과 사회에 도움이 되는 것을 중요시한다.
 ㄷ. A, B 씨는 외적 직업 가치관을 중요시한다.
 ㄹ. A 씨는 과정 지향적 직업관, B 씨는 결과 지향적 직업관을 보이고 있다.

- ① ㄱ, ㄴ ② ㄱ, ㄷ ③ ㄴ, ㄷ ④ ㄴ, ㄹ ⑤ ㄷ, ㄹ

2. 다음 사례에 나타난 A, B 씨의 근무 상황을 분석한 내용으로 적절한 것만을 <보기>에서 있는 대로 고른 것은? [3점]

일·생활 균형 근로 사례

A 씨: 저는 패션 회사에 입사한 지 3개월 된 디자이너입니다. 현재 선택적 근로시간제를 활용하여 일하고 있어요. 7년 만에 일을 하는 것이라 어려움도 있지만 아동복 디자인 업무를 열심히 배우고 있습니다. 2주 전부터는 육아기 근로시간 단축 제도도 활용하고 있어 5살 딸에게 좀 더 신경 쓸 수 있어 좋습니다.

B 씨: 저는 ○○전자의 20년 차 직원으로서 현장에서 팀장을 맡고 있습니다. 제품기 생산 물량이 늘어나는 4월 1일부터 단위기간을 3개월로 하는 탄력적 근로시간제를 적용해 근무했어요. 일이 많은 달에는 힘들지만 여유 있는 달에는 가정에서 아빠의 역할에 좀 더 충실할 수 있어서 만족합니다.

<보 기>

- ㄱ. A 씨는 현재 ‘육아기 근로시간 단축 급여’를 지급할 수 있다.
 ㄴ. B 씨의 4월~6월 근무 방식은 근로자대표와 사용자의 서면 합의가 필요하다.
 ㄷ. A, B 씨는 유연 근로시간제에 해당하는 근무 방식을 활용하고 있다.

- ① ㄱ ② ㄴ ③ ㄱ, ㄷ ④ ㄴ, ㄷ ⑤ ㄱ, ㄴ, ㄷ

3. 다음 구직 관련 대화를 통해 알 수 있는 내용으로 옳은 것은? (단, 「근로기준법」에 따른다.) [3점]

안녕하세요. 저는 고등학교에 재학 중인 17살 학생 A입니다. ○○제과 구인 공고를 보고 문의드립니다.

인사팀장 ○○제과 인사팀장입니다. 해야 할 업무는 빵을 포장하고, 진열하는 일입니다. 평일 근무는 월요일~금요일까지 매일 17시부터 4시간씩이고, 시급은 11,000원입니다.

휴일 근무도 있나요?

인사팀장 네, 2주마다 한 번씩 토요일 오전 9시부터 4시간 근무가 있고, 주휴일은 일요일입니다.

제출해야 할 서류는 무엇인가요?

인사팀장 관련 법에 따라 (가)가 필요합니다.

- ① A의 부모는 A의 근로 계약을 대리할 수 있다.
 ② (가)에 해당되는 서류에 ‘재학 증명서’가 포함된다.
 ③ A가 ○○제과에 고용될 경우, 제시된 휴일 근무를 위해 A의 동의와 고용노동부 장관의 인가가 필요하다.
 ④ A가 ○○제과에 고용될 경우, A의 일주일 근로시간의 최장 한도는 연장 근로시간을 포함하여 35시간이다.
 ⑤ A가 ○○제과에 고용될 경우, 사용자는 A에게 하루에 1시간 이상의 휴게시간을 근로시간 도중에 제공해야 한다.

4. 다음은 고용보험 질의응답 게시판이다. 이에 대한 분석 내용으로 옳은 것만을 <보기>에서 있는 대로 고른 것은? [3점]

고용보험 질의응답 게시판

질문자: A 작성일: 2025년 8월 1일

저는 ○○고용센터장이 지시한 직업능력개발 훈련을 받고 있습니다. 훈련 기간 중 실업의 인정을 받은 날이 소정급여일수를 초과하게 되어, ○○고용센터장의 지시로 훈련 기간을 12개월 연장하여 실업급여를 지급받게 되었습니다. 연장이 시작된 후부터 어제까지 2개월 동안 성실하게 훈련을 받으며 실업급여를 지급하였는데, 취업이 확정되어 오늘부터 일을 하게 되었습니다. 제가 지금 신청하여 받을 수 있는 실업급여는 어떤 것이 있는지 알고 싶습니다.

☞상답사 답변: (가)

질문자: B 작성일: 2025년 8월 1일

저는 ○○고용센터장이 지시한 3개월 과정의 직업능력개발 훈련에 참여하여 어제까지 2개월 동안 성실하게 이수하며 실업급여를 지급하였습니다. 그런데 오늘 아침 교통사고가 나서 입원 치료 중이라 이후 훈련은 참여하지 못하게 되었습니다. 남은 1개월의 기간에 대해 실업급여를 지급할 수 있는지 궁금합니다.

☞상답사 답변: (나)

<보 기>

- ㄱ. (가)에는 ‘조기재취업 수당 지급이 가능합니다.’가 들어갈 수 있다.
 ㄴ. (나)에는 ‘부상으로 인해 실업의 인정을 받지 못한 날에 대하여 상병 급여 지급이 가능합니다.’가 들어갈 수 있다.
 ㄷ. A, B가 2025년 7월에 지급한 실업급여는 취업촉진수당에 해당한다.

- ① ㄱ ② ㄴ ③ ㄱ, ㄷ ④ ㄴ, ㄷ ⑤ ㄱ, ㄴ, ㄷ

2 (성공적인 직업생활) 직업탐구 영역

5. 다음 글에 나타난 첨단 기술로 가장 적절한 것은?

미국 플로리다주 ○○ 병원에서 근무하는 의사 A 씨는 사람이 직접 수술하는 것처럼 정밀한 동작으로 작동하는 수술 기구를 미국에서 온라인으로 제어하여 남아프리카 앙골라에 있는 환자의 암 수술을 집도하였다. 앙골라의 수술실에서는 현지 의료진이 수술을 보조하였고, 수술은 성공적으로 진행되었다.

- ① 로봇 기술 ② 핀테크 기술 ③ 블록체인 기술
④ 리사이클링 기술 ⑤ 신재생 에너지 기술

6. 다음 노동쟁의 관련 수행 평가 보고서를 분석한 내용으로 옳은 것만을 <보기>에서 있는 대로 고른 것은? [3점]

수행 평가 보고서

작성자: A

주제: 노동쟁의 조정 사례

4월 10일: ○○ 전자 노사가 단체협약을 체결함.

7월 24일: 노사 간 네 차례의 임금 협상에도 불구하고 단체교섭이 결렬됨.

8월 12일: 노동위원회에 조정이 신청되어 즉시 회부됨.

8월 21일: 조정위원회가 조정안을 제시함.

<보 기>

- ㄱ. ○○ 전자 노동조합이 조합원 과반수의 찬성으로 7월 30일에 쟁의 행위를 실시하였다면 이는 적법하다.
ㄴ. 8월 12일에 ○○ 전자 노동조합 일방이 조정을 신청하였다면 이는 적법하다.
ㄷ. 8월 21일에 제시된 조정안은 관계 당사자의 의사와 상관없이 단체협약과 동일한 효력을 갖는다.

- ① ㄱ ② ㄴ ③ ㄱ, ㄷ ④ ㄴ, ㄷ ⑤ ㄱ, ㄴ, ㄷ

7. 다음 직무 능력 인증서를 분석한 내용으로 옳은 것은? [3점]

직무 능력 인증서

성명: A

1. 위 사람은 「국민 평생 직업능력 개발법」 제26조에 따라 아래의 직무 능력을 갖추었음을 인정합니다.

(중략)

■ 자격

취득 방법	자격명	발급 기관	취득 일자	국가직무능력표준 분류	능력단위명
검정형 자격	화훼장식 기능사	한국산업 인력공단	2023. 11. 29.	24.농림어업 > 01.농업 > 04.화훼장식 > 01.단위화훼장식	화훼장식 한국형 디자인 (2401040131_19v4)

■ 훈련

훈련 유형	과정명	훈련 기관	훈련 기간	국가직무능력표준 분류	능력단위명
국민내일 배움카드	유기농업 기능사	○○직업 전문학교	2020. ××. ××. ~ 2020. ××. ××.	-	-

- ① '04.화훼장식'은 NCS 분류 체계 중 세분류에 해당한다.
② NCS 능력단위의 교육 훈련을 위한 교수·학습 자료가 제시되어 있다.
③ A가 취득한 자격에서 직무를 구성하는 기본 단위는 2024년에 수정·보완되었다.
④ A가 이용한 훈련 유형은 특성화고 1학년 학생이 활용하여 훈련비를 지원받을 수 있다.
⑤ A는 직무수행능력 습득·향상을 위해 국가에서 직업능력개발 훈련비를 지원하는 제도를 활용하였다.

8. 다음은 회사 홍보용 스포츠 영상 제작을 위한 스토리보드이다. 장면 1과 장면 2에 나타난 기업 경영 활동으로 가장 적절한 것은?

장면 1

【화 면】 자동화된 공정, 품질 검사 장면

【텍 스톱트】 “배전용 변압기 세계 1위의 기술력, (주)○○ 전기!”

【내레이션】 (주)○○ 전기는 제품의 에너지 손실을 최소화하는 정밀 생산 공정과 일관성 있는 고품질로 세계의 인정을 받고 있습니다.

장면 2

【화 면】 투자 설명회, 연구 개발 실험 장면

【텍 스톱트】 “투자자금 유치와 R&D 강화, (주)○○ 전기의 힘찬 도약”

【내레이션】 (주)○○ 전기는 주식 시장 상장으로 유치한 자금을 연구 개발에 집중 투자하였습니다.

장면 1

- ① 재무 관리 활동
② 재무 관리 활동
③ 생산 관리 활동
④ 생산 관리 활동
⑤ 인적 자원 관리 활동

장면 2

- 생산 관리 활동
인적 자원 관리 활동
재무 관리 활동
회계 정보 관리 활동
회계 정보 관리 활동

9. 다음 사례에 나타난 기업 형태에 대한 설명으로 옳은 것만을 <보기>에서 있는 대로 고른 것은? [3점]

A 기업은 회사의 채무에 대해서 끝까지 연대 지급 의무를 지는 사원과 출자금 한도 내에서 책임지는 사원으로 구성되어 있으며, 회사의 업무 집행 권리와 의무는 (가) 사원에게 있다.

B 기업은 (나) 사원으로만 구성된 회사로, 정관에 다른 규정이 없음에 따라 각 사원은 출자 1주마다 1개의 의결권을 갖고 있다. 매출액은 약 1,000억 원으로, 외부 감사를 받아야 하는 규모의 회사이다.

<보 기>

- ㄱ. A 기업은 인적 요소와 물적 요소가 혼합된 형태이다.
ㄴ. B 기업은 사원 총회로 회사의 중요한 사안을 결정한다.
ㄷ. A 기업의 (가) 사원에 비해 B 기업의 (나) 사원은 지분 양도의 제약 조건이 적다.

- ① ㄱ ② ㄴ ③ ㄱ, ㄷ ④ ㄴ, ㄷ ⑤ ㄱ, ㄴ, ㄷ

10. 다음 신입 사원 채용 관련 회의 내용을 분석한 것으로 가장 적절한 것은?

블라인드 채용 원칙에 따라 선발된 서류 전형 합격자를 내일 발표할 예정입니다. 2차와 3차 면접 전형은 잘 준비되고 있나요?

네, 2차 면접은 사전에 제시된 주제에 대해 지원자가 자료를 준비하여 여러 명의 면접관 앞에서 단독으로 발표하는 방식입니다. 주제는 '무한 경쟁 환경에서 경쟁 기업보다 우위를 차지하기 위해 노력하는 미래 지향적 자세'입니다.

3차 면접은 지원자들 상호 간에 직무 관련 주제에 대해 논리적으로 설득하고 토론하는 과정을 평가하는 방식입니다.



A 부장




B 과장



C 과장


- ① 서류 전형에서는 지원자의 학력, 성별 등을 고려하였다.
② 2차 면접은 토론 면접에 해당한다.
③ 2차 면접의 주제는 기업이 정신 중 '자율성'에 해당한다.
④ 3차 면접은 압박 면접에 해당한다.
⑤ 2차 면접은 3차 면접에 비해 다수의 지원자를 동시에 비교·평가 하기에 불리한 방식이다.

11. 다음 아빠의 사진 일기에 나타난 아들과 아빠의 생애 발달 단계별 발달 과업에 대한 설명으로 적절한 것만을 <보기>에서 고른 것은? (단, 생애 발달 단계별 발달 과업은 해비거스트(Havighurst, R. J.) 이론에 근거한다.)



친구와 함께 곤충을 관찰하고 있는 우리 아들. 올봄 초등학교에 입학하여 궁금한 것이 많아 친구들과 재잘재잘 말하는 모습이 너무 예쁘다. 숲 여기저기를 뛰어다니 후 아이와 함께 쓴 관찰 일지를 읽고 있으면 절로 웃음이 난다.

2025. 5. 24.



직장 생활 초반에는 업무를 익히느라 힘들었지만, 작년에 승진도 하고 회사 생활이 안정되었다. 그런데 나보다 열 살 많은 선배가 이번에 55세로 퇴직하는 것을 보니, 이제 나도 경력 관리와 건강에 좀 더 신경 써야겠다.

2025. 6. 13.

<보 기>

- ㄱ. 아들이 속한 시기에는 ‘학습 습관 형성하기’가 있다.
 ㄴ. 아들이 속한 시기에는 ‘자아 정체감 형성하기’가 있다.
 ㄷ. 아빠가 속한 시기에는 ‘인생 철학 확립하기’가 있다.
 ㄹ. 아빠가 속한 시기에는 ‘성인의 관점에서 사회적 가치 수용하기’가 있다.

- ① ㄱ, ㄴ ② ㄱ, ㄷ ③ ㄴ, ㄷ ④ ㄴ, ㄹ ⑤ ㄷ, ㄹ

12. 다음은 ‘업무상의 재해’ 관련 수업 활동 자료이다. 활동 결과에 대한 설명으로 옳은 것은? (단, 수업 활동은 「산업재해보상보험법」에 따라 올바르게 수행되었다고 가정한다.) [3점]

‘업무상의 재해’ 관련 수업 활동

• 아래 모든 규칙을 A~C 씨의 사례에 각각 적용하여 해당하는 스티커를 (가)~(다)에 붙이세요.


규칙	업무상 사고에 해당하는 경우 → 빨강 스티커 1개씩 부착
	요양급여를 수급할 수 있는 경우 → 파랑 스티커 1개씩 부착
	휴업급여를 수급할 수 있는 경우 → 노랑 스티커 1개씩 부착

• ‘업무상의 재해’ 인정 사례별 스티커 판


피보험자	사례	스티커 판
A 씨	사내 체육 대회에서 넘어져 일주일간 통원 치료를 받음. 치료 기간 중 성실하게 근무하였으며 장애 없이 완전히 치유됨.	(가)
B 씨	정비 작업 중 감전 사고로 부상당함. 2주간의 입원 치료 후 1년간 통원 치료를 하여 치유되었으나, 손가락 감각이 둔화되어 장애 14급 판정을 받음. 입원 기간 중 취업하지 못하여 임금을 받지 못함.	(나)
C 씨	관용 차량으로 통상적인 경로를 통하여 출근 중 교통사고가 발생함. 4일간 근무 외 시간을 활용하여 통원 치료를 받은 후 완치됨.	(다)

- ① (가)에는 총 3개의 스티커가 붙어 있다.
 ② (다)에는 빨강 스티커와 파랑 스티커가 붙어 있다.
 ③ (나)와 (다)에는 모두 노랑 스티커가 붙어 있다.
 ④ (가)~(다)에 붙여진 스티커는 총 5개이다.
 ⑤ (가)~(다) 전체에서 파랑 스티커가 가장 많이 붙어 있다.

13. 다음 신제품 출시 관련 회의 장면을 통해 알 수 있는 내용으로 옳은 것만을 <보기>에서 있는 대로 고른 것은?




신제품 출시 준비 상황을 보고해 주세요.




A 부장

신제품 생산은 수요를 예측하여 계획을 수립하고 생산하는 방식을 따르기로 한 결정에 맞춰 생산 설비를 구축하고 있습니다.



B 부장

신제품의 수요 예측 정확성을 높이기 위해 기업 고객 대상의 온라인 주문 결제 시스템을 새로 도입 중입니다.



C 부장

「독점규제 및 공정거래에 관한 법률」에 따른 대규모 회사 또는 기업집단에 속한 기업은 아니지만, 최근 5년간 매년 자산 총액 5,000억 원, 매출액 1,500억 원 이상을 유지해 온 기업을 대상으로 신제품 홍보를 강화할 예정입니다.

<보 기>

- ㄱ. 신제품의 생산 방식은 시장 생산 방식에 해당한다.
 ㄴ. 새로 도입하는 온라인 주문 결제 시스템의 전자상거래 유형은 B2C이다.
 ㄷ. 홍보를 강화할 대상 기업은 「중소기업기본법」상 중소기업에 해당한다.

- ① ㄱ ② ㄴ ③ ㄱ, ㄷ ④ ㄴ, ㄷ ⑤ ㄱ, ㄴ, ㄷ

14. 다음은 NCS 직업기초능력 관련 수행 평가 보고서이다. (가), (나)에 대한 설명으로 적절한 것만을 <보기>에서 고른 것은?

수행 평가 보고서

작성자: A

주제: 나이팅게일의 사례에 나타난 NCS 직업기초능력 탐색

사례	직업기초능력
나이팅게일은 전쟁 중 사망자 수를 시간대와 사망 원인별로 분류하여 원형 그래프 형태의 로즈 다이어그램(rose diagram)으로 분석하였다.	(가)
나이팅게일은 위생 관리의 중요성을 알리고, 정책 결정자들을 설득하고 이견을 조율하여 전시 의료 시스템을 개선하는 데 기여하였다.	(나)

<보 기>

- ㄱ. (가)는 직무에 필요한 기본 역량인 기초 능력군에 속한다.
 ㄴ. (가)의 하위 영역에 ‘직업 생활에 필요한 기술의 원리 및 절차를 이해하는 능력’이 포함된다.
 ㄷ. (나)의 하위 영역에 고객 서비스 능력이 포함된다.
 ㄹ. (나)의 향상 방법에는 ‘인적 자원의 특성을 잘 이해하여 적재적소에 인력을 배치하기’가 포함된다.

- ① ㄱ, ㄴ ② ㄱ, ㄷ ③ ㄴ, ㄷ ④ ㄴ, ㄹ ⑤ ㄷ, ㄹ

15. 다음 사례에 나타난 직업 윤리로 가장 적절한 것은?

○○기업의 CEO는 건물 외벽과 테라스에 식물을 심는 ‘수직 숲’ 프로젝트를 추진했다. 추가 설치 비용이 발생했지만 이 건물은 매년 약 25톤의 이산화탄소를 흡수하고 산소를 배출할 것으로 기대된다.

- ① 성 윤리 ② 생명 윤리 ③ 정보 윤리
 ④ 환경 윤리 ⑤ 언론 매체 윤리

4 (성공적인 직업생활) 직업탐구 영역

16. 다음 A 씨의 근로관계를 분석한 내용으로 옳은 것은? [3점]

A 씨(남, 28세)는 「근로기준법」의 적용을 받는 ○○마트(상시 근로자 3명)에 고용되어 아래와 같은 조건으로 지각, 조퇴, 결근 없이 근로하였으나, 2025년 2월 초 사용자의 일방적인 해고 예고 이후 2025년 3월 31일까지 근무 후 해고되었다. A 씨는 2025년 4월 10일까지 정당한 이유 없이 퇴직금을 지급받지 못하여 구제 신청을 하였으며, 2025년 4월 13일에 퇴직금 전액을 받았다.

근로 계약 기간	2024. 4. 1. ~ 2026. 3. 31.
시급	15,000원
소정근로시간	16시~23시(휴게시간 19시~20시)
근무일/주휴일	매주 월~금요일/주휴일 매주 일요일
퇴직 전 3개월 (총일수 90일) 근무 상황	소정근로시간에만 근로하고, 무급휴일은 12일이며, 나머지 일수는 소정근로일 또는 유급휴일에 해당함.

- ① A 씨의 퇴직금은 최소 234만 원이다.
- ② A 씨의 주휴수당은 매주 10만 5천 원 이상이다.
- ③ 근로자의 권익 침해 중 부당해고에 해당한다.
- ④ 근로자의 권익 침해 중 임금체불에 해당한다.
- ⑤ ○○마트의 사용자는 A 씨에게 야간근로에 대한 가산 수당을 지급 하여야 한다.

17. 다음 신제품 출시 사례에 나타난 A~C 기업을 분석한 내용으로 가장 적절한 것은? [3점]

밀폐 용기 생산업체인 A 기업은 저조한 판매 실적을 높이기 위해 신제품 출시를 결정하였다. 이에 따라 기업 고객을 대상으로 하는 B 기업에 신제품 홍보 브로슈어 디자인을 의뢰하여 B 기업의 디자이너들과 여러 차례 의견 조율을 거친 후 최종 디자인을 결정하였다. 이후 A 기업은 표준화된 신제품을 정해진 생산 공정에서 대량 생산하여, 다수의 소매 점포를 점포 관리 표준 매뉴얼에 따라 운영하고 있는 C 기업에 공급하고 있다.

- ① A 기업은 개별 생산 방식으로 신제품을 생산하고 있다.
- ② A 기업은 클라크(Clark, C. G.)의 산업 분류상 3차 산업에 해당한다.
- ③ B 기업은 수요 주체에 따라 분류하면 ‘소비자 서비스업’에 해당한다.
- ④ B 기업이 제공하는 서비스는 슈메너(Schmenner, R. W.)의 서비스 프로세스 매트릭스 이론에 따르면 ‘서비스 공장’에 해당한다.
- ⑤ C 기업은 서비스의 이질성을 낮추기 위한 관리 지침을 활용하고 있다.

18. 다음 안내문에 나타난 평생 학습 제도의 사례로 적절한 것은?

평생 학습 제도 활용 후기 공모 안내문

“스스로 공부하는 학습자가 「독학에 의한 학위취득에 관한 법률」에 의해 교육부 장관 명의를 학사 학위를 취득할 수 있도록 하는 제도”를 활용했던 당신의 이야기를 들려주세요.

- ① 국가평생교육진흥원에서 주관하는 시험을 통과하여 경영학사 학위를 취득한 경우
- ② 소속 근로자를 위한 기업 내 교육 시설에서 교육 수료 후 전문학사 학위를 취득한 경우
- ③ 산업체 요구에 따라 대학에 개설된 특별 교육 과정을 이수하여 학사 학위를 취득한 경우
- ④ 기업에 채용되어 현장 작업 훈련을 받은 뒤 대학에서 현장 외 훈련을 받아 학사 학위를 취득한 경우
- ⑤ 스포츠 강사 경험을 온라인 학습 계좌에 누적하여 이를 인정받아 청소년 지도사 3급을 취득한 경우

[19~20] 다음은 창업 사례 특강이다. 물음에 답하시오.

안녕하세요. (주)○○브리더의 대표 A입니다. 저는 동물 관찰에 흥미가 있었는데, 진로에 대한 오랜 기간의 조사와 상담, 그리고 적성 검사 결과를 바탕으로 파충류를 사육하는 브리더(Breeder)가 되기로 결심했습니다.

저는 B와 함께 (주)○○브리더를 신규 창업하여 지분의 양도 없이 지금까지 공동으로 경영하고 있습니다. B는 파충류 박람회 등에서 도마뱀 사육에 순간적으로 매료되어 즉시 파충류 사육 회사 창업에 동참하였는데, 지금은 이 일을 저보다 더 좋아합니다.

화면은 B와 공동 출자한 창업 초기 자금 조달 방법과 자금 용도입니다. 다행히 사업이 잘되어 창업 1년 후 총 400만 원을 추가 출자하여 그 금액만큼 은행 대출금을 상환하였습니다.

(단위: 만 원)		
자금 조달 방법	출자금	1,200
	은행 대출금	400
	무이자 정책 자금 대출금	400
자금 용도	사육시설 구축	1,000
	인건비	400
	원재료 구입	400
	임차료	200
창업 자본 총액		2,000

19. 위 사례에 나타난 A, B의 의사 결정 유형에 대한 설명으로 적절한 것만을 <보기>에서 있는 대로 고른 것은? (단, 의사 결정 유형은 하렌(Harren, V. A.)의 진로 의사 결정 유형 이론에 근거한 합리적, 직관적, 의존적 유형으로만 구분한다.)

<보 기>

- ㄱ. A의 의사 결정 유형은 충분한 정보를 수집, 분석하여 미래 상황까지 예측하는 유형이다.
- ㄴ. B의 의사 결정 유형은 의존적 의사 결정 유형이다.
- ㄷ. A에 비해 B의 의사 결정 유형은 상상과 정서적 자각에 기초하여 의사 결정하는 유형이다.

- ① ㄱ ② ㄴ ③ ㄱ, ㄷ ④ ㄴ, ㄷ ⑤ ㄱ, ㄴ, ㄷ

20. 위 창업 사례를 분석한 내용으로 옳은 것은? [3점]

- ① 창업 초기 ‘자기 자본’ 총액은 1,600만 원이다.
- ② 기업의 소유 여부에 따라 분류할 때 A, B는 ‘고용 경영자’에 해당 한다.
- ③ 용도에 따른 자금의 분류 중 ‘시설 자금’의 총액이 ‘운전 자금’의 총액보다 많다.
- ④ 창업 1년 후 창업 자본 총액 대비 ‘타인 자본’의 비율은 창업 초기에 비해 20%p 감소하였다.
- ⑤ A, B는 계약을 통해 모기업의 경험, 명성, 로고, 생산 기술 등을 이용하는 방식으로 창업하였다.

* 확인 사항

- 답안지의 해당란에 필요한 내용을 정확히 기입(표기)했는지 확인 하시오.